



UNIVERSITÀ DEL PIEMONTE ORIENTALE
DIPARTIMENTO DI GIURISPRUDENZA
E SCIENZE POLITICHE,
ECONOMICHE E SOCIALI

Via Cavour, 84 – 15121 Alessandria AL
Tel. 0131 283901/745- Fax 0131 283773
www.digspes.uniupo.it

Test iniziale di Scienze Politiche e dell'Amministrazione¹

NOME:

COGNOME:

ISTITUTO DI APPARTENENZA:

Parte prima – Comprensione della lingua italiana

Riassumere l'articolo qui riportato e rispondere a due domande di comprensione.

Fonte: Sergio Fabbrini, *Il sovranismo alla ricerca di una nuova politica* ("Il Sole 24 Ore" 11 luglio 2021).

"Pochi giorni fa, 16 partiti europei della destra nazionalista (tra cui gli italiani Fratelli d'Italia e Lega) hanno sottoscritto una "Dichiarazione sull'avvenire dell'Europa". Non è semplice, per partiti nazionalisti, individuare una piattaforma comune sul piano sovra-nazionale. Certamente, essi condividono la critica dell'attuale Unione Europea (Ue). La Dichiarazione, infatti, mette in discussione l'impegno, celebrato nei Trattati europei e assunto dagli Stati che hanno aderito all'Ue, di costruire "un'unione più stretta." Tuttavia, la Dichiarazione vuole andare oltre la critica, presentandosi come un contributo al dibattito sul futuro dell'Europa. Vale la pena di distinguere le cose nuove e vecchie della Dichiarazione, proprio perché l'evoluzione del sovranismo nazionalista è importante per la stabilizzazione dell'Ue.

Cominciamo dalle cose nuove. Attraverso la Dichiarazione, i sovranisti si collocano all'interno dello schieramento geopolitico occidentale. I sovranisti riconoscono che il legame degli europei con l'America, istituzionalizzato dalla NATO, ha garantito la pace tra i Paesi europei e la sicurezza ai loro cittadini. Non si parla (come si faceva nel passato) di equidistanza tra Occidente e Oriente, né si menziona la Russia e

¹ Il test va compilato in Word o in PDF e inviato via mail al Prof. Stefano Quirico (stefano.quirico@uniupo.it)



tanto meno la Cina come interlocutori privilegiati. [...]. Inoltre, la Dichiarazione riconosce che l'Ue costituisce il contesto entro cui collocare le varie politiche nazionali. [...] Le varie suggestioni indotte da BREXIT (lasciare l'Ue, uscire dall'Eurozona) sono state dimenticate. Almeno nelle parole, c'è lo sforzo dei sovranisti a districarsi dai lacci ideologici del nazionalismo independentista.

Vediamo ora le cose vecchie. Per la Dichiarazione, la sovranità continua ad essere una proprietà indivisibile del potere politico. Assumendo come propri avversari (di comodo) coloro che mirano a costruire un "superstato europeo", cui trasferire le sovranità nazionali, la Dichiarazione ribadisce che "i sovrani in Europa sono e rimangono le nazioni e i popoli". L'unitarietà della sovranità nazionale è necessaria per proteggere "la cultura e la storia delle nazioni europee" [...]. Per la Dichiarazione è necessario rovesciare la "reinterpretazione sostanziale dei Trattati portata avanti dalle istituzioni europee negli ultimi decenni". Di qui la proposta di definire "una lista delle competenze inviolabili degli Stati membri dell'Ue", oltre che di istituire "un meccanismo appropriato per la loro protezione con la partecipazione delle corti costituzionali nazionali o organi equivalenti". Per i sovranisti è assolutamente cruciale re-imporre la primazia giuridica delle costituzioni nazionali, così da impedire alla Corte europea di giustizia (Ceg), organo giuridico sovranazionale, di definire standard di comportamenti confliggenti con le tradizioni giuridiche nazionali. Ma tale impostazione è inconciliabile con il funzionamento del mercato unico, che richiede l'esistenza di una Corte sovranazionale indipendente per risolvere dispute tra divergenti giurisdizioni o legislazioni nazionali. Peraltro, il ritorno alla primazia del diritto nazionale finirebbe per mettere in discussione il sistema sovranazionale che fornisce ai Paesi dell'Europa dell'est enormi benefici economici.

In conclusione, pur con alcune novità, la Dichiarazione dei sovranisti non riesce a rielaborare la retorica nazionalista. In un'unione di Stati e di cittadini, la divisione tra progetti di integrazione è spesso più importante di quella tra la destra e la sinistra. Qual è il progetto di integrazione dei sovranisti, se hanno davvero abbandonato il progetto di disintegrazione dell'Ue.

Riassumere l'articolo qui riportato (in un massimo di 20 righe)

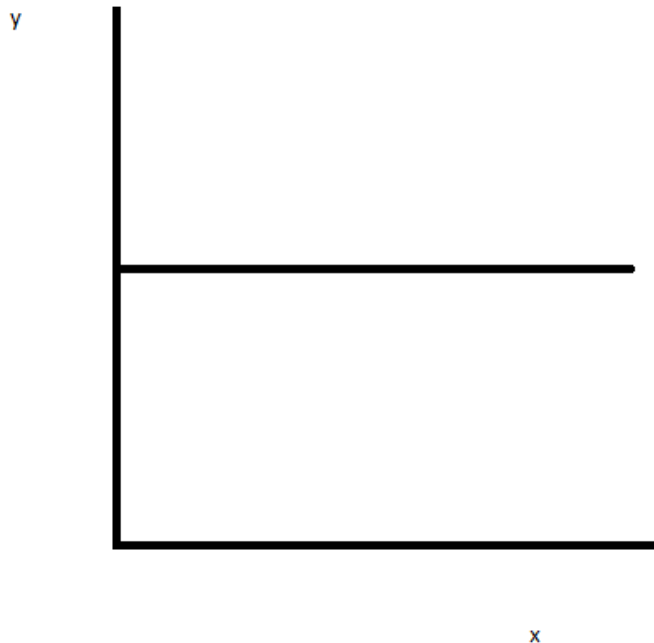


Parte seconda – Abilità matematiche

- 1) Il tasso di disoccupazione è pari al numero di disoccupati diviso il numero di lavoratori potenziali espresso in termini percentuali (cioè moltiplicato 100). Se i disoccupati sono 10.000 e i lavoratori potenziali 100.000, a quanto ammonta il tasso di disoccupazione?
- 2) Il numero dei lavoratori potenziali è data dalla somma di occupati e disoccupati. Se gli occupati sono 190.000 e i disoccupati 10.000, a quanto ammonta il tasso di disoccupazione?
- 3) Marco ha fatto tre esami e ha preso 27 del primo, 26 del secondo e 19 del terzo. Gli esami hanno lo stesso peso. Ricavate la media
- 4) Se $2x + 2 = 12$, si calcoli il valore di x
- 5) Se $5x - 1 = -16$, si calcoli il valore di x
- 6) Marco ha fatto due esami. Nel primo esame, che vale 10 crediti, ha preso 30, nel secondo esame, che vale 6 crediti, ha preso 18. Ricavate la media ponderata.
- 7) Se $y = 4x$, si calcoli la derivata
- 8) Se $y = 2x^4$, si calcoli la derivata



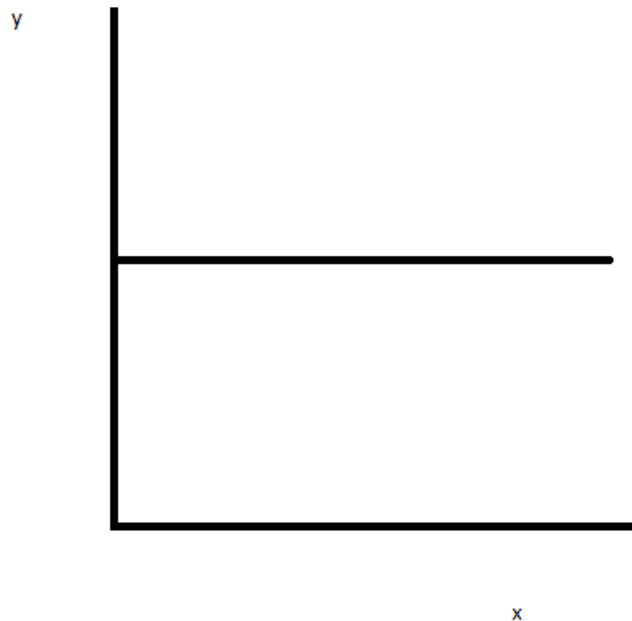
- 9) L'anno scorso guadagnavo 3000 euro al mese. Quest'anno il mio stipendio è aumentato del 4%. Quanto guadagno quest'anno?
- 10) $xxxy$ è un numero di 4 cifre. Ovviamente le prime 3 cifre sono uguali. Se la somma di $x + y$ è 8 e la cifra rappresentante le unità è tripla rispetto a quella delle decine, il valore numerico di $xxxy$ sarà
- 11) Se il PIL di una nazione è pari a 20000 euro nel 2018 e a 23000 euro nel 2019, di quanto è aumentato in termini percentuali?
- 12) Data la funzione $y = 4x + 7$, si scriva l'intercetta.
- 13) La retta in figura ha una inclinazione
- A) positiva B) negativa C) costante





14) Se 5 crediti equivalgono a 30 ore, 9 crediti equivarranno a ore

15) In questa figura



A) X è costante

B) Y è costante

C) Y cresce al crescere di X

16) Consideriamo la seguente funzione che spiega il consumo medio annuo di una famiglia nell'anno t (C_t) in funzione del reddito (R_t) e del patrimonio monetario (M_t) dello stesso periodo:

$$C_t = 5.000 + 0,8R_t + 0,1M_t$$

- Il valore 5.000 indica in euro il consumo medio di una famiglia a prescindere (qualunque esso sia) dal reddito della famiglia.
- Il valore 5.000 indica in euro il consumo medio di una famiglia a prescindere (qualunque essa sia) dal patrimonio liquido (monetario) della famiglia
- Il valore 5.000 indica in euro il consumo medio di una famiglia che non ha percepito alcun reddito e non ha alcun patrimonio monetario.
- Non ha alcun significato matematico

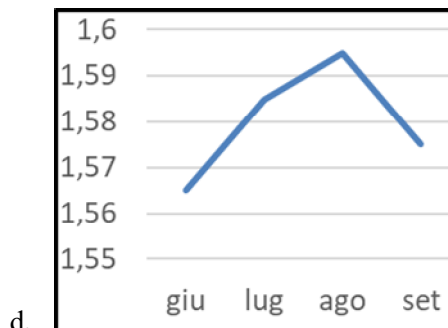
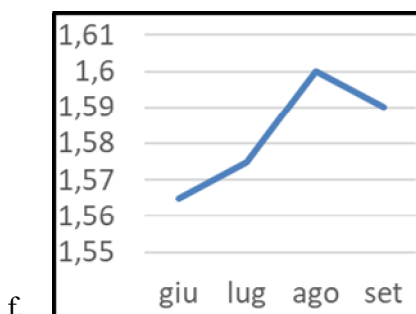
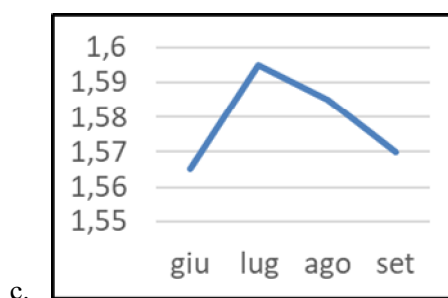
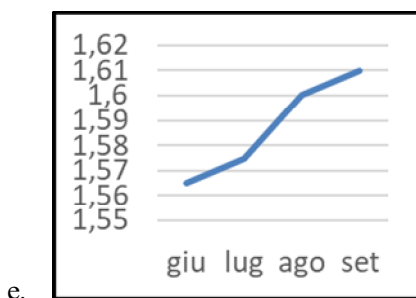


- 17) Consideriamo ancora la funzione precedente e una famiglia con un reddito annuo di 50.000 euro e un patrimonio monetario di 20.000 euro:
- a. La famiglia ha un consumo medio annuo di 37.000 euro
 - b. La famiglia ha un consumo medio annuo di 42.000 euro
 - c. La famiglia ha un consumo medio annuo di 47.000 euro
 - d. La famiglia ha un consumo medio annuo di 52.000 euro

- 18) Consideriamo la sottostante tabella relativa ai prezzi medi (euro per litro) della benzina negli ultimi mesi:

mese	Giugno	Luglio	Agosto	settembre
Prezzo	1.565	1.575	1.60	1.61

- a. Il prezzo della benzina da giugno a luglio è aumentato di 1 centesimo
 - b. Il prezzo della benzina da giugno a luglio è aumentato di 0.5 centesimi
 - c. Il prezzo della benzina da giugno a luglio è diminuito di 0.5 centesimi
 - d. Il prezzo della benzina da giugno a luglio è diminuito di 1 centesimo
- 19) Quale dei grafici sotto interpreta la tabella sopra?





20) Quale delle seguenti operazioni è corretta:

a) $(4^{0.5})^2 = 16$

b) $(4^{0.5})^2 = 4$

c) $(4^{0.5})^2 = 1$

d) $(4^{0.5})^2 = 1/4$